



# ÖDÜLLÜ SEVİYE TESPİT SINAVI


## SINAV KURALLARI

- Sınav 4 seçenekli toplam 50 tane test sorusundan oluşmaktadır.
- **Sınav süresi 80 dakikadır.**
- Cevaplarınızı kodlama kâğıdı üzerine silinebilir kurşun kalem ile yuvarlağı taşırmadan kodlayınız.
- Kodlama kâğıdında değiştirmek istediğiniz cevabınızı yumuşak silgi ile iz bırakmadan sildikten sonra yeni cevabınızı kodlayınız.
- **Türkçe, Matematik ve Fen Bilimleri sorularının puan değeri 4 puan, Din Kültürü ve Ahlak Bilgisi, Sosyal Bilgiler ve İngilizce sorularının puan değeri 1 puandır.**
- Başarılar dileriz.

Cevaplarınızı optik forma kodlamayı unutmayınız. Başarılar dileriz.

### TÜRKÇE DERSİ ÖRNEK SORULARI

1.



Karaköy'de dalga sesleri eşliğinde vapurdan indik. Simitçilerin ve balık ekmekçilerin sesine kalabalığın gürültüsü karışmıştı. İstiklal Caddesi'ne yöneldik. Galata Kulesi'ne geldiğimizde soluklanıp bu mimari şaheseri seyre daldık.

Altı çizili kelime grubu (deyim) hangi anlamda kullanılmıştır?

- A) Bir şeye kendini vererek bakmak
- B) Seyirci gibi davranıp karışmamak
- C) Çevre ile ilgisini kesip iç dünyasına kapanmak
- D) Gözü bir noktaya dikili olarak dalgın dalgın bakmak

2.



Orman memleketin süsü,  
Hem ufağı, hem irisi,  
Her dalında bir kuş sesi,  
Ormandaki varlığa bak.

-Âşık Veysel ŞATIROĞLU-

Bu şiirin ana duygusu aşağıdakilerden hangisidir?

- A) Hayvan sevgisi
- B) Orman sevgisi
- C) Özlem
- D) Yalnızlık

3.

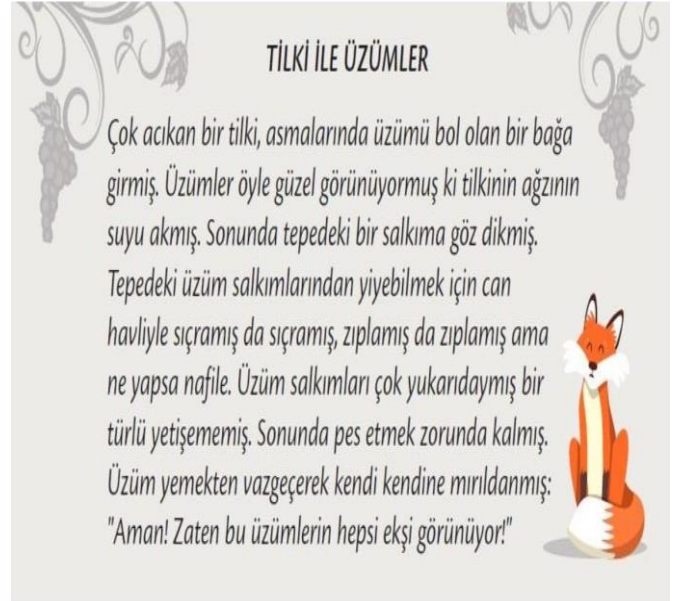


Tatil yapmak isteyen dört tatilci farklı renkteki araçlarla "Atasözü" isimli tatil köyüne gitmek üzere yola çıkmıştır. Ancak tatilcileri tatil köyüne ulaştıracak olan doğru yön, "tasarruf" ile ilgili atasözünün belirtildiği yöndür.

Buna göre hangi renk araçla yola çıkan tatilci, doğru yöne gitmektedir?

- A) Kırmızı
- B) Mavi
- C) Mor
- D) Turuncu

4.



Yukarıdaki metnin türü aşağıdakilerden hangisidir?

- A) Fıkra
- B) Tekerleme
- C) Şiir
- D) Fabl

## ÖDÜLLÜ SEVİYE TESPİT SINAVI ÖRNEK SORULARI

5. Doğa ile ilgili aşağıdaki görsellerden hangisi çevre sorunlarına dikkat çekmek için kullanılamaz?



6. Kitap en iyi arkadaş  
Bana neyi sorsan söyler.  
Ne anlatsa en sonunda  
Çalış, iyi, doğru ol, der.
- Geceleri uyumaz o,  
Beni kaldırırlar erkenden.  
Okulum kadar güzeldir,  
Kitabı çok severim ben.
- Aşağıdakilerden hangisi metne göre kitabın özelliği değildir?

- A) En iyi arkadaştır.  
B) Okul kadar güzeldir.  
C) Geceleri erkenden uyur.  
D) Çeşitli öğütler verir.

7. Bir parkta iki çocuk bankın birine oturmuş tartışıyorlardı. Çocuklardan küçük ve sarı saçlı olanı sürekli "Hayır, senin dediğin gibi değil." diyordu. Yavaşça çocukların yanına yaklaştım. Bir matematik sorusunun çözümü üzerine tartışıyorlardı. O an anlamım ki çalışmak isteyen her yerde çalışabilir. İmrenmedim değil çocuklara.

Parçada hikâye unsurlarından hangisi yoktur?

- A) Zaman B) Kişiler C) Yer D) Olay

8. Sözcükler bazen anlamı güçlendirmek ve zenginleştirmek için gerçek anlamı dışında kullanılır. Bu tür sözcüklere mecaz anlamlı sözcükler denir.

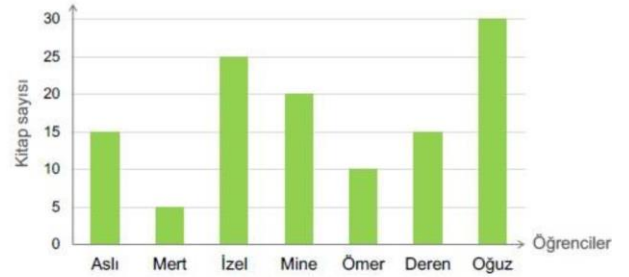
Aşağıdaki cümlelerde altı çizili sözcüklerden hangisi mecaz anlamında kullanılmamıştır?

- A) Çevresine çok soğuk davranıyor.  
B) Tatlı sözleriyle bizi kendine hayran etti.  
C) Bu adamın söylediği her söz doğrudur.  
D) Şık bir cevap verdi.

9. Aşağıdaki cümlelerin hangisinde büyük harflerin kullanımıyla ilgili yanlışlık yapılmıştır?

- A) Tülay ablama gittim.  
B) Biz orta mahallede oturuyoruz.  
C) Seyit Onbaşı yaptığı kahramanlıkla asırlarca yaşayacaktır.  
D) Esra Öğretmen soruları zor mu sormuş?

10. Grafikte 4/A sınıfı öğrencilerinin okudukları kitap sayısı verilmiştir.



Grafiğe göre aşağıdakilerden hangisi söylenemez?

- A) İzel'in okuduğu kitap sayısı 15'tir.  
B) En çok kitap okuyan öğrenci Oğuz'dur.  
C) Aslı ve Deren eşit sayıda kitap okumuştur.  
D) En az kitap okuyan öğrenci Mert'tir.

Yavuz: "Tüm gün evdeydim ..... bir türlü dinlenemedim."

11. Yavuz'un cümlesinde noktalı yere aşağıdakilerden hangisi getirilemez?

- A) ancak  
B) ile  
C) ama  
D) fakat

## ÖDÜLLÜ SEVİYE TESPİT SINAVI ÖRNEK SORULARI

12. Burak 15 yaşındadır.




Buna göre yukarıdaki televizyonlarda başlayacak olan programların kaç tanesi Burak'ın izlemesine uygundur?

- A) 1 B) 2 C) 3 D) 4

### SOSYAL BİLGİLER DERSİ ÖRNEK SORULARI

- 13.



Yukarıda görseli verilen teknolojik aletin kullanım alanı nedir ?

- A) İletişim B) Ulaşım C) Sağlık D) Temizlik

14. Aşağıda doğal afetlerle ilgili verilen bilgilerden hangisi doğrudur?

- A) Aşırı yağın yağmur sonucu veya karların erimesi sonucu oluşan doğal afet yangındır.  
B) Çığdan korunmak için sağlam binalar yapılmalıdır.  
C) Yurdumuzun büyük bir kısmı deprem kuşağı içerisinde yer alır.  
D) Deprem riskine karşı deprem çantası hazırlamak doğru değildir.

Aşağıdakilerden hangisi Milli Mücadele Dönemi'nde yaşanan gelişmelerden biri değildir?

15. A) Kütahya - Eskişehir Savaşları.  
B) Sakarya Savaşı.  
C) Mustafa Kemal Atatürk'ün Samsun'a çıkışı.  
D) 1. Dünya Savaşı.

16. Aşağıdakilerden hangisi sınır komşularımızdan biri değildir ?

- A) Gürcistan B) Japonya C) Suriye D) İran

17. Aşağıdakilerden hangisinde bilinçli tüketicinin tanımı doğru verilmiştir?

- A) Üretim yapan kişilere bilinçli tüketici denir.  
B) Tüketim de yaşadığı sorunlar sonrası ne yapması gerektiğini bilen ve haklarını arayan kişilere denir.  
C) Ürün satan kişilere denir.  
D) Üretilen ürünleri pazarlara ulaştıran kişilere denir.

### DİN KÜLTÜRÜ VE AHLAK BİLGİSİ DERSİ ÖRNEK SORULARI

18. Aşağıdakilerden hangisi, dilek ve dualarımızda kullandığımız dini ifadelerden değildir?

- A) Allah korusun!  
B) İyi akşamlar  
C) Allah razı olsun!  
D) Allah iyilik versin!

19. Ben şahitlik ederim ki Allah'tan başka ilah yoktur ve yine şahitlik ederim ki, Hz. Muhammed Allah'ın kulu ve elçisidir."

Bu açıklama aşağıdakilerden hangisinin anlamıdır?

- A) Kelime-i Şehadet B) Besmele  
C) Sübhaneke D) Elhamdulillah

İslam dininin inanç esasları arasında aşağıdakilerden hangisi yer almaz?

20. A) Peygamberlere inanmak  
B) Namaz kılmak  
C) Kitaplara inanmak  
D) Meleklerle inanmak

## ÖDÜLLÜ SEVİYE TESPİT SINAVI ÖRNEK SORULARI

21. ...., insanın güzel, doğru ve iyi davranışlarda bulunması; çirkin, yanlış ve kötü davranışlardan kendi isteği ile uzaklaşmasıdır.


Bu parçada noktalı yere aşağıdakilerden hangisi getirilmelidir?

- A) Sevgi B) İbadet  
C) Güzel Ahlak D) Cömertlik


### İNGİLİZCE DERSİ ÖRNEK SORULARI

22. 
- Görseli anlatan seçenek aşağıdakilerin hangisidir?

- A** Sit down  
**B** Raise your hand  
**C** Clean the board  
**D** Open the window

23. 
- Ali is from \_\_\_\_\_  
He is \_\_\_\_\_
- Yukarıda boş bırakılan yerlere aşağıdakilerden hangisi gelmelidir?

- A** Russia-Russian  
**B** Turkey-Turkish  
**C** Italy-Italian  
**D** Japan- Japanese

24. 
- Anıl : Do you like singing?  
Hüseyin : Yes, \_\_\_\_\_.
- Yukarıda boş bırakılan yere aşağıdakilerden hangisi gelmelidir?

- A** I don't  
**B** I'm not  
**C** I do  
**D** I am

25.



The dog is \_\_\_\_\_ the washing machine.

Resme göre yukarıda boş bırakılan yere aşağıdaki seçeneklerden hangisi gelmelidir?

- A** in
- B** under
- C** nex to
- D** on

26.



Resim aşağıdaki seçeneklerin hangisini ifade etmektedir?

- A** Attorney
- B** Doctor
- C** Teacher
- D** Singer

MATEMATİK DERSİ ÖRNEK SORULARI

27. En yakın yüzlüğe yuvarlandığında 1500 olan en büyük sayı ile en küçük sayının farkı kaçtır?

- A) 90 B) 99 C) 100 D) 109

28. Yanda verilen şekillerdeki her bir örüntünün kuralı farklıdır. Buna göre, verilmeyen terimlerle bir örüntü oluşturulursa bu örüntünün 4. terimi aşağıdakilerden hangisi olur?

- A) 5 B) 9 C) 14 D) 19

29. Matematik dersinde toplama ve çıkarma işlemlerini öğrenen Ali, aşağıdaki bilgiler doğrultusunda, annesinin, babasının ve kendisinin yaşları toplamını bulmak istiyor.

- Ali 2011 yılında doğmuştur.
- Ali doğduğunda babası 24 yaşındadır.
- Ali'nin annesi, Ali'nin babasından 2 yaş küçüktür.

Buna göre Ali'nin, annesinin ve babasının 2022 yılındaki yaşları toplamı kaçtır?

- A) 79 B) 81 C) 83 D) 85

30. Yanda verilen bir otobüs görselinde her sırada 4 koltuk olacak şekilde 12 sıra koltuk bulunmaktadır. Bu otobüs günde 8 sefer yaptığına göre, bu otobüsün bir günde **en fazla** taşıyacağı yolcu sayısı aşağıdaki işlemlerden hangisi ile bulunabilir?

- A)  $(4 \times 12) + 8$  B)  $(8 \times 4) + 12$  C)  $(4 + 12) \times 8$  D)  $(8 \times 4) \times 12$

31. Bir apartman sitesinde 5 blok, her blokta 16 kat ve her katta 4 daire bulunmaktadır. Buna göre bu sitede toplam kaç daire vardır?

- A) 25 B) 84 C) 100 D) 320

32. Yandaki sayı bulmacasında verilen yönden başlanarak işlemler takip edildiğinde “?” yerine yazılması gereken sayı kaç olur?

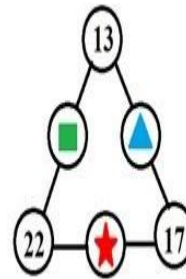
120	÷	8	=	
				×
				18
				=
?	=	30	+	

- A) 200  
B) 300  
C) 400  
D) 500

33. Bir öğretmen sınıf kütüphanesinde bulunan 245 adet kitabı her bir öğrenci eşit sayıda kitap alacak şekilde dağıtmış ve 15 kitap artmıştır. Her öğrenci 10 adet kitap aldığına göre sınıf mevcudu kaçtır?

- A) 23 B) 24 C) 25 D) 26

34.



Yanda verilen şemada aynı kenar üzerinde bulunan çemberlerin içinde yazan sayıların toplamı 50'dir.

Buna göre,  $(\star \times \blacksquare) = \blacktriangle + ?$  eşitliğinde “?” yerine gelmesi gereken sayı kaçtır?

- A) 145 B) 165 C) 185 D) 205

35.

Oğuz 360 sayfalık bir kitabın ilk gün  $\frac{2}{9}$ 'ini okuyor. Daha sonraki günlerde her gün 40 sayfa okuyarak kitabını bitiriyor. Buna göre Oğuz bu kitabı kaç günde bitirir?

- A) 7 B) 8 C) 9 D) 10

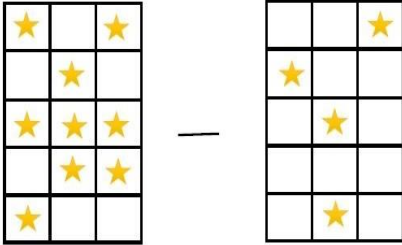
36.

Aynı büyüklükteki pizzaların Elif  $\frac{1}{3}$ 'ünü, Selim  $\frac{1}{2}$ 'ini, Esra  $\frac{1}{6}$ 'ini, Can ise  $\frac{1}{5}$ 'ini yiyor. Son durumda kimin kalan pizzası en çok olur?

- A) Elif B) Selim C) Esra D) Can




37.



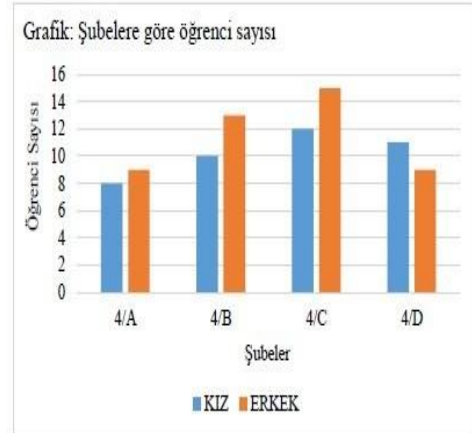
Yukarıda modellenen çıkarma işleminin sonucu aşağıdakilerden hangisi ile gösterilebilir?

- A) B) C) D)



38.

Aşağıdaki grafik, Orhangazi İlkokulu'ndaki 4. sınıf öğrenci sayısının şubelere göre dağılımını göstermektedir.



Bu grafikteki verilere göre aşağıdakilerden hangisi yanlıştır?

- A) 4/C sınıftaki erkek öğrenci sayısı 4/D sınıftaki kız öğrenci sayısından fazladır.  
 B) 4/A ve 4/D sınıflarındaki kız öğrenci sayıları birbirine eşittir.  
 C) Sınıf mevcudunun en fazla olduğu sınıf 4/C sınıfıdır.  
 D) 4/B sınıftan 2 öğrenci giderse 4/B sınıfı ile 4/D sınıfının öğrenci sayıları birbirine eşit olur.


### FEN BİLİMLERİ DERSİ ÖRNEK SORULARI

39. Oyuncaklarının resimlerini çizmek isteyen Ayşe, oyuncaklarının gölgesinden yararlanarak çizim yapmaya başladı. Sabah saatlerinde rahat çizebildiği resimleri, öğle saatinde gölgeleri küçüldüğü için çizmekte zorlandı. Oyuncaklar aynı iken gölgelerin değişmesine neden olan olay hangisidir?

- A) Hava sıcaklığının farklılık göstermesi  
 B) Dünya'nın kendi ekseninde dönmesi  
 C) Cismin aldığı ışık miktarının azalması  
 D) Dünya'nın Güneş'in etrafında dolanması

Vücudumuzda düzenleyici olarak görev yapan vitaminler bizleri hastalıklara karşı korurlar. Buna göre aşağıdaki besinlerden hangisi içeriğinde daha fazla vitamin bulundurarak bizleri hastalıklara karşı koruyan besinlerdendir?

40.





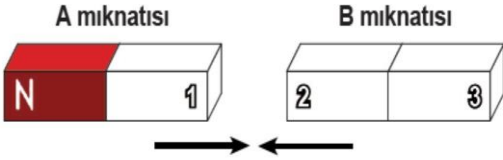
41. Sigara içen bir kişinin hangi organı diğerlerine göre daha fazla zarar görür?

- A) Karaciğer      B) Akciğer  
C) Mide            D) Beyin

42. Aşağıdakilerden hangisi kuvvetin cisimler üzerinde yaptığı etkilerden biri değildir?

- A) Hareket yönünü değiştirmesi      B) Hızını azaltması  
C) Madde miktarını artırması      D) Şekli değiştirilmesi


43. Şekildeki A ile B mıknatısları birbirlerini çekmektedir.



Buna göre, hangisinde mıknatısların numaralandırılmış kutupları doğru olarak verilmiştir?

- |    | 1 | 2 | 3 |
|----|---|---|---|
| A) | S | S | N |
| B) | N | S | N |
| C) | S | N | S |
| D) | N | N | S |

44. Ali, dereceli kaba su koyup içine elma atarak suyun ne kadar yükseldiğini not almıştır.



Ali'nin bu deneyi yapma amacı hangisidir?

- A) Suyun hacmini ölçmek  
B) Elmanın hacmini hesaplamak  
C) Suyun ağırlığını hesaplamak  
D) Elmanın kütleini ölçmek

45. Gazlarla ilgili bazı bilgiler verilmiştir.

- I. Gazlar sıkıştırılmaz.  
II. Gazların belirli bir şekli yoktur.  
III. Gazlar buldukları kabın tamamına yayılır.

Verilen bilgilerden hangileri doğrudur?

- A) Yalnız I      B) I ve II      C) II ve III      D) I, II ve III

46. Ela mutfakta aşağıda verilen günlük işleri yapıyor.

- I. Yarısu dolu tuzluğa tuz ekliyor.  
II. Bir bardak süte bir çay kaşığı bal ekliyor.  
III. Domates, soğan ve maydanozdan oluşan salata yapıyor.

Ela'nın yaptığı işlerin hangisinin sonucunda bir karışım oluşur?

- A) Yalnız II      B) I ve II      C) II ve III      D) I, II ve III

47. Toplumsal duyarlılığı arttırmak için bir öğrenci evlerindeki elektrik anahtarlarının üstüne "Gereksiz ise söndürünüz." afişini yazarak asmıştır.

Buna göre öğrenci aşağıdaki hangi mesajı vermek istemiştir?

- A) Aydınlatma araçlarının doğru yerde kullanılması  
B) Aydınlatma araçlarının ışık kirliliğine etkisinin olması  
C) Aydınlatma araçlarının tasarruflu kullanımı sonucu aile ve ülke ekonomisine katkısının olması  
D) Aydınlatma araçlarının uygunluğu göz sağlığı açısından önemli olması

48. Aşağıdaki sağlık sorunlarından hangisi ses kirliliğinin insan sağlığı üzerindeki etkilerinden biri değildir?

- A) İşitme bozukluğu  
B) Baş ağrısı  
C) Uykusuzluk  
D) Bel ağrısı

49. Bir grup öğrencinin gündelik hayatta yaptığı bazı davranışlar aşağıda verilmiştir.

Ayşe: Evimizde gereksiz yere yanan lambaları kapatırım.

Selim: Dişlerimi fırçalarken musluğu açık bırakmam.

Harun: Kalorifer fazla yandığında pencereleri açarım.

Buna göre hangi öğrencilerin davranışı kaynakların doğru kullanımına örnektir?

- A) Ayşe – Harun                      B) Harun – Selim  
C) Ayşe – Selim                      D) Ayşe – Selim – Harun

50. Basit bir elektrik devresinde bulunan devre elemanlarının görevleri aşağıda verilmiştir.

- Devre elemanları arasında, elektrik enerjisinin iletilmesini sağlar.
- Devre için gerekli olan elektrik enerjisini sağlar.
- Devrede elektrik geçişini kontrol eder.

Buna göre, görevi verilmeyen devre elemanı hangisidir?

- A) Pil                      B) Kablo                      C) Ampul                      D) Anahtar